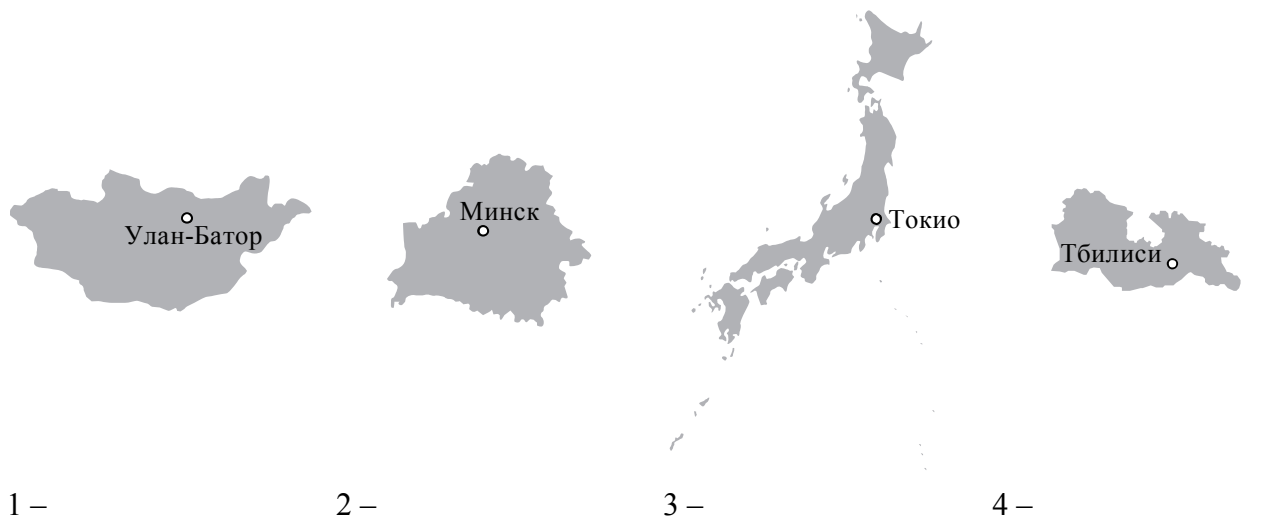


1 На рисунках представлены контуры стран – соседей России с указанием столиц этих стран. Рассмотрите рисунки и выполните задания.

1.1. Выберите из списка названия этих стран и укажите их под рисунками.

Страны-соседи России:

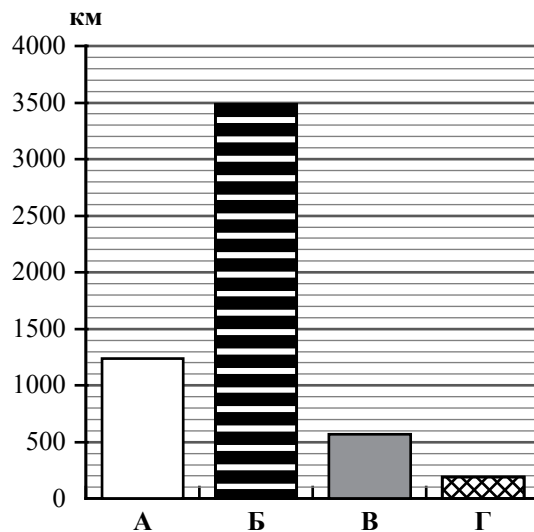
Литва, Польша, Белоруссия, Грузия, Южная Осетия, Казахстан, Япония, Монголия.



Определите расположение указанных Вами стран на схеме и впишите в пустые квадраты их **номера**.



1.2. На диаграмме отображена протяжённость границ России с представленными на рисунках странами. Границе с какой страной соответствует столбец, обозначенный буквой Б? Запишите в ответе название страны.



Ответ. _____

ИЛИ

1

На рисунках представлены контуры стран-соседей России. Рассмотрите рисунки и выполните задания.

1.1. Выберите из списка названия столиц этих стран и укажите их под рисунками.

Столицы стран-соседей России:

Вильнюс, Вашингтон, Таллин, Токио, Минск, Пекин, Тбилиси, Баку.

Грузия



США



Китай



Эстония



1 – _____

2 – _____





3 – _____

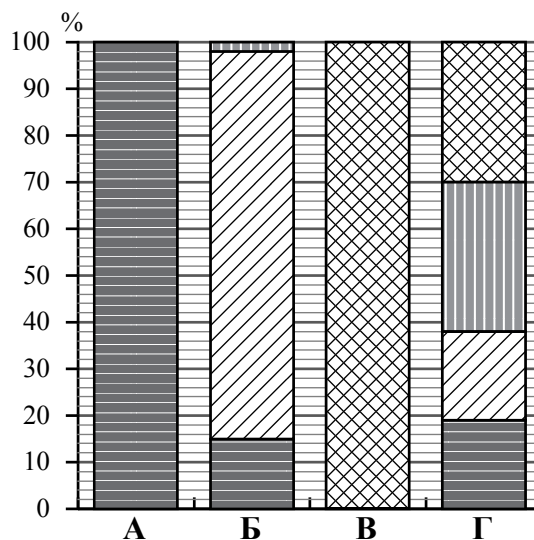
4 – _____

Определите расположение представленных стран на схеме и впишите в пустые квадраты их **номера**.



1.2. На диаграмме отображена структура границ России с представленными на рисунках странами (в % по видам границ). Границе с какой страной соответствует столбец, обозначенный буквой Б? Запишите в ответе **название** страны.

-  Сухопутная граница: собственно сухопутная
-  речная
-  озёрная
-  Морская граница



Ответ. _____

Задания 2–5 выполняются с использованием карты России, приведённой на странице 6.

2

2.1. На карте буквами обозначены объекты, определяющие географическое положение России. Выберите из приведённого списка названия этих объектов и запишите их в таблицу.

Географические объекты:

Острова Северная Земля, Балтийское море, Белое море, остров Сахалин, острова Новая Земля, остров Врангеля, Чукотский полуостров, полуостров Таймыр.

Ответ.	А	Б	В	Г



2.2. Точка N расположена на территории одного из указанных Вами географических объектов и имеет координаты 71° с.ш. 55° в.д. Поставьте на карте крайнюю южную точку России, которая расположена на одном меридиане с точкой N, и обозначьте её буквой K.

Определите и запишите в ответе координаты точки K.

Ответ. _____

Рассчитайте расстояние в километрах от точки N до точки K. Длина дуги меридиана в 1° составляет 111,3 км. Результат округлите до целого числа. (Для расчёта используйте калькулятор.)



Ответ. _____ км.

ИЛИ



2.2. Точка N расположена на территории одного из указанных Вами географических объектов и имеет координаты 55° с.ш. 20° в.д. Поставьте на карте крайнюю восточную **островную** точку России, которая расположена на одной параллели с точкой N, и обозначьте её буквой K.

Определите и запишите в ответе координаты точки K.

Ответ. _____

Рассчитайте расстояние в километрах от точки N до точки K с помощью таблицы длин дуг параллелей. Результат округлите до целого числа. (Для расчёта воспользуйтесь калькулятором.)

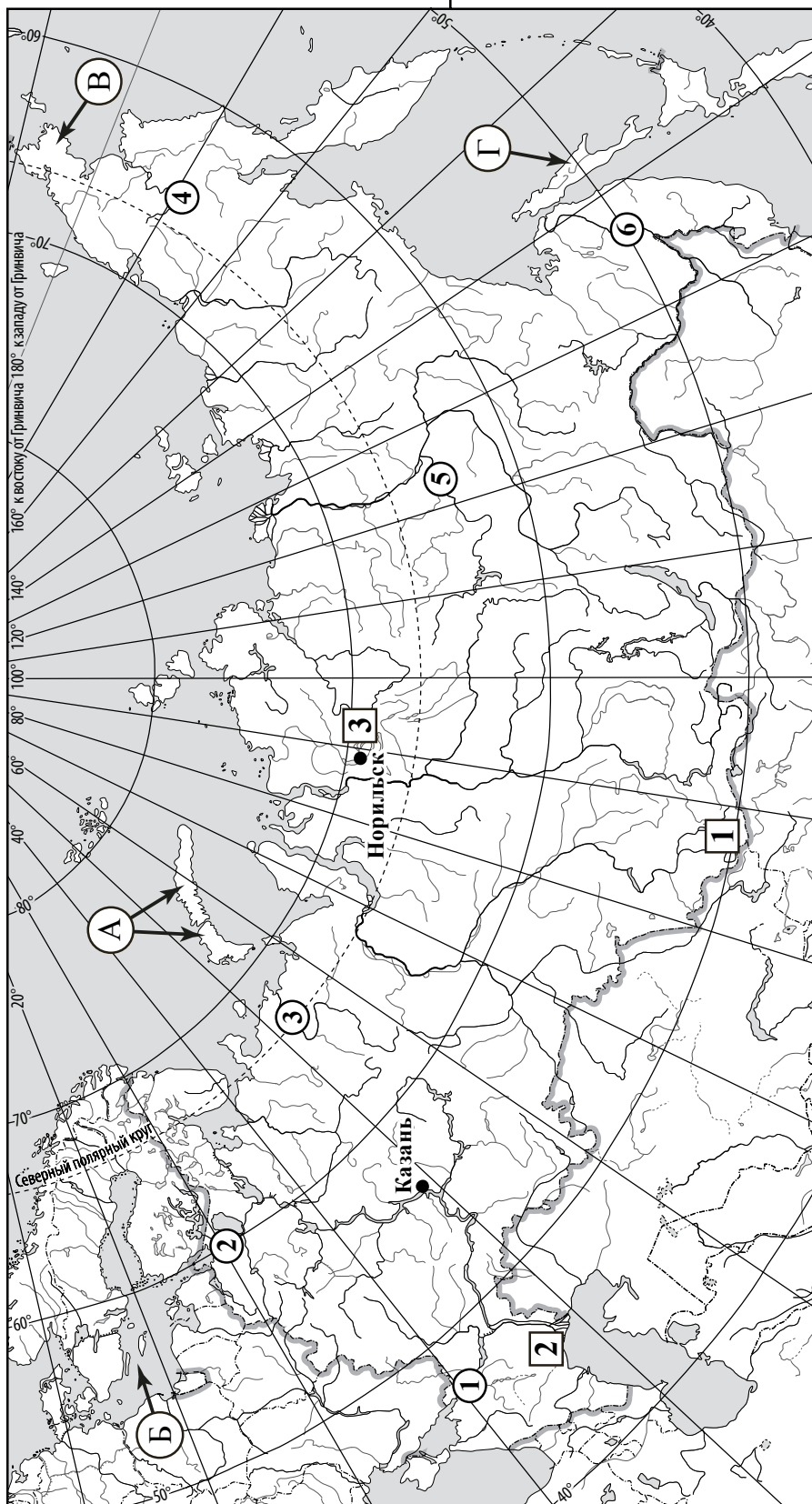
Широта	0°	5°	10°	15°	20°	25°	30°	35°	40°	45°
Длина дуги параллели в 1° , км	111,3	110,9	109,6	107,6	104,6	101,0	96,5	91,3	85,4	78,8
Широта	50°	55°	60°	65°	70°	75°	80°	85°	90°	
Длина дуги параллели в 1° , км	71,7	64,0	55,8	47,2	38,2	28,9	19,4	19,4	0	



Ответ. _____ км.



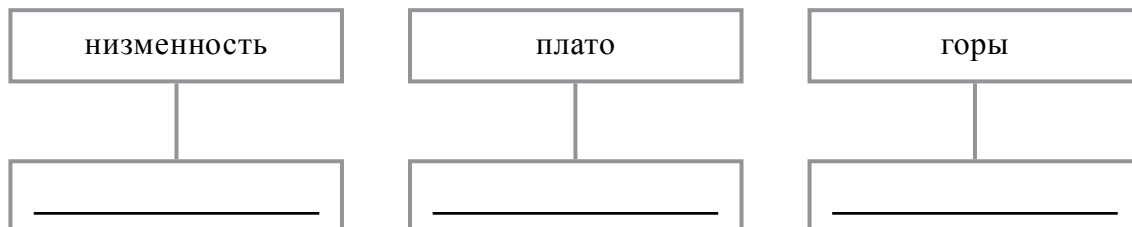
Карта для выполнения заданий 2, 3, 4, 5



3.1. На карте России цифрами в квадратах обозначены формы рельефа. Выберите из предложенного списка географические названия этих форм рельефа и впишите в пустые ячейки на схеме.

Географические названия форм рельефа:

Становое, Путорана, Шивелуч, Алтай, Прикаспийская, Валдайская.



3.2. Какая форма рельефа обозначена на карте цифрой **1**? Запишите в ответе полное название этого географического объекта.

Ответ. _____

На какой из фотографий представлен указанный Вами географический объект?



Ответ.

3.3. Выберите три утверждения, которые характеризуют особенности указанного Вами географического объекта, и запишите в ответе их номера.

- 1) Здесь берут начало реки Бия и Катунь.
- 2) Большая часть территории заболочена.
- 3) Территория богата нефтью и природным газом.
- 4) Этот географический объект расположен на юге Сибири.
- 5) Наивысшая точка – гора Белуха.
- 6) Здесь много действующих вулканов.

Ответ.

4

4.1. Распределите реки России, приведённые в списке, в соответствии с бассейнами океанов, к которым они относятся. Запишите названия рек в соответствующие ячейки таблицы.

Реки:

Амур, Печора, Нева, Дон, Вилюй, Анадырь.

Бассейн Северного Ледовитого океана	Бассейн Атлантического океана	Бассейн Тихого океана

4.2. Определите по тексту и запишите название одной из приведённых в списке рек.

Река в Восточной Сибири, левый приток реки Лены, самый длинный из всех её притоков. Её бассейн расположен в зоне многолетней мерзлоты. Река берёт начало на плато в восточной части Среднесибирского плоскогорья на высоте 520 м над уровнем моря. Длина реки составляет 2650 км. В среднем течении она прорезает узкую долину, напоминающую каньон, здесь построена крупная ГЭС. В нижнем течении, на территории Центрально-Якутской низменности, берега реки представляют собой широкую заболоченную пойму с множеством небольших озёр и островов. Абсолютная высота территории, где река впадает в Лену, составляет 54 м.

Ответ. _____

Приведённые в списке реки обозначены на карте цифрами в кружках. Какой цифрой обозначена указанная Вами река?

Ответ.

4.3. Используя данные, приведённые в тексте, рассчитайте падение и уклон указанной Вами реки. Результаты округлите до десятых. (Для расчёта используйте калькулятор.)

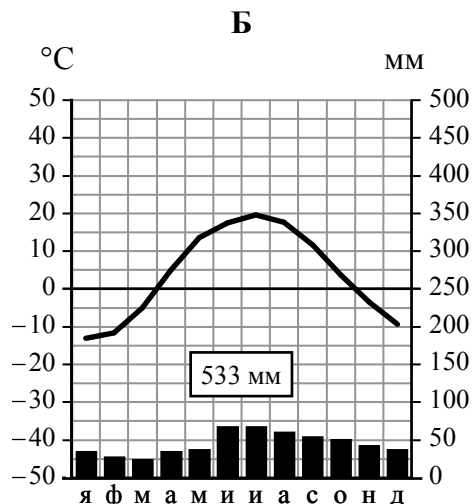
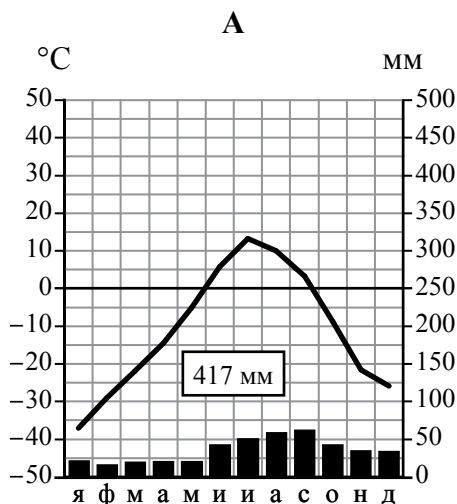
Ответ.

Падение реки _____ м.

Уклон реки _____ см/км.

5 На карте России указаны два города: Норильск и Казань, для которых по данным метеонаблюдений построены климатограммы, изображённые на рисунках. Рассмотрите карту и климатограммы и выполните задания.

5.1. Определите, какому климатическому поясу / типу климата соответствует каждая климатограмма. Подпишите название климатического пояса / типа климата под соответствующей климатограммой, выбрав его из приведённого списка.



Климатические пояса / типы климата:

- арктический,
- субарктический,
- умеренный / морской,
- умеренный / умеренно континентальный,
- умеренный / континентальный,
- умеренный / резко континентальный,
- умеренный / муссонный,
- субтропический.

5.2. Школьник из Норильска написал письмо с описанием особенностей местного климата своему другу, который живёт в Казани.

Климат в нашем городе суровый. Морозы начинаются уже в сентябре - октябре, а зимой достигают -40-45 °С. Зимой снега немного, но дуют сильные холодные ветры, и часты метели. Лето короткое и прохладное, температура не поднимается выше +15 °С. Большая часть осадков выпадает в начале осени.

Какая климатограмма построена по данным метеонаблюдений в городе Норильске? Укажите в ответе букву, которой она обозначена.

Ответ.

По выбранной Вами климатограмме определите климатические показатели, характерные для климата Норильска, и заполните таблицу.

Средняя температура воздуха, °С		Годовая амплитуда температур, °С	Годовое количество осадков, мм	Месяц, на который приходится наибольшее количество осадков
в январе	в июле			

5.3. Какие климатообразующие факторы определяют климат Норильска? Запишите в ответе их **номера**.

- 1) тёплое океаническое течение
- 2) распространение многолетней мерзлоты
- 3) мощный летний антициклон
- 4) расположение за Северным полярным кругом
- 5) большой угол падения солнечных лучей в течение всего года
- 6) близость Северного Ледовитого океана

Ответ. _____

Задание 6 выполняется с использованием карты России, приведённой на странице 12.

6

Группа туристов отправилась в путешествие по России. На карте отмечены буквами опорные точки их маршрута, которые являются крупными городами: центрами субъектов Российской Федерации (республик, краёв, областей) и/или городами федерального значения. Проследите по карте маршрут туристов и выполните задания.

6.1. Выберите из приведённого списка названия городов – опорных точек маршрута, и заполните таблицу.





Города:

Тюмень, Волгоград, Красноярск, Ростов-на Дону, Москва, Мурманск.

Опорная точка маршрута	А	Б	В
Название города			

Подпишите на карте названия указанных Вами городов – опорных точек маршрута.

6.2. Из точки А в точку Б туристы решили добраться на самолёте. Заполните пропуски в авиабилете: впишите названия пункта вылета, пункта назначения и время прилёта в пункт назначения (местное время).

	
 город _____	 город _____
Время вылета – 11:00	Время прилёта – _____
Расчётное время полёта – 5 часов	
	

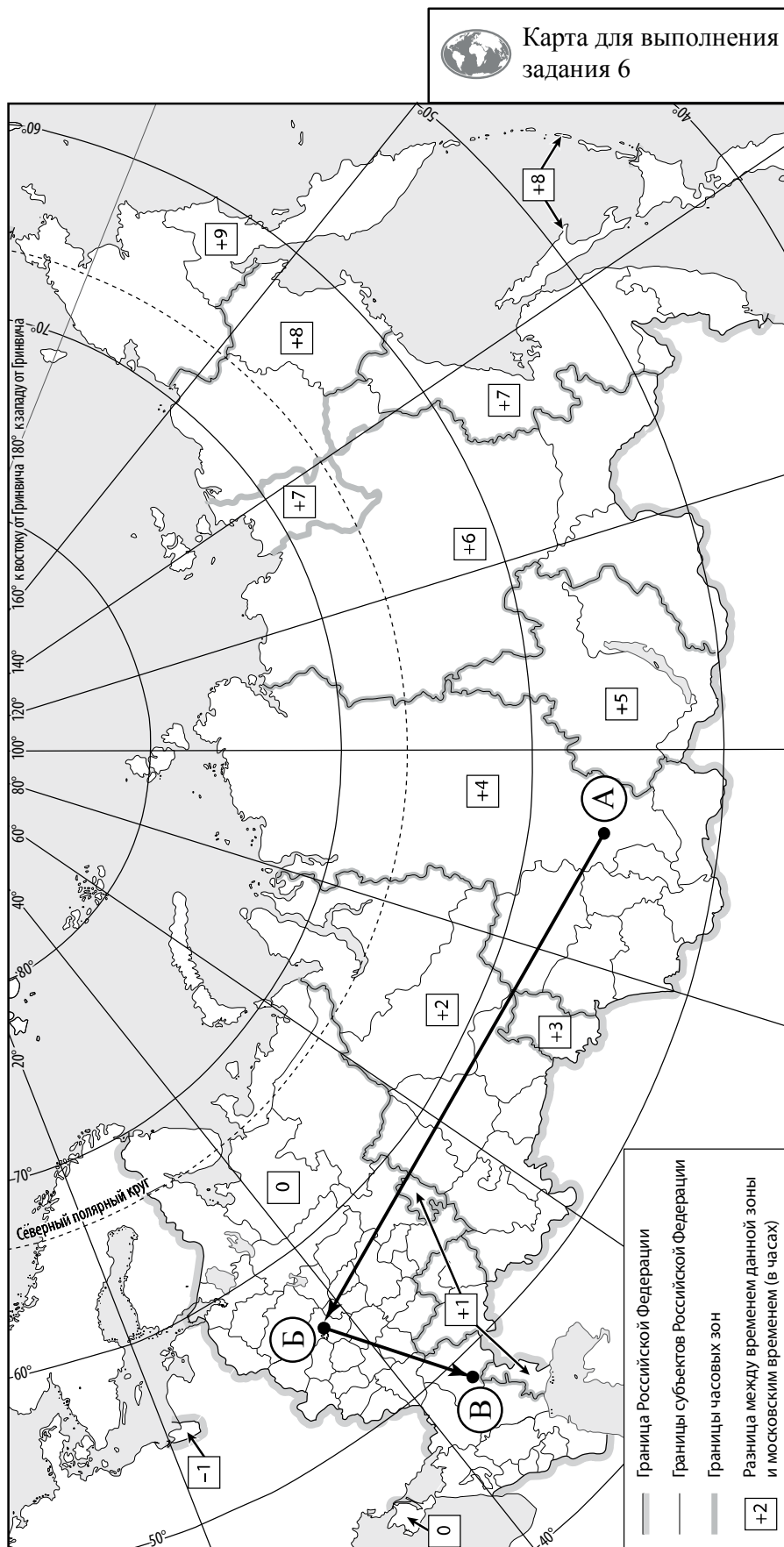
6.3. Путь от точки Б до точки В туристы преодолевали на поезде и автомобиле. По пути они делали фотографии и записи в дневнике. Рассмотрите фотографии, прочитайте записи туристов и ответьте на вопрос.



В начале нашего пути за окнами поезда мелькали корпуса промышленных предприятий, хозяйственные постройки и жилые кварталы, где было мало зелёных насаждений. Через некоторое время появились перелески и леса из сосны, берёзы, осины, ели, а затем – дубовые рощи, и стали отчётливо видны холмы Среднерусской возвышенности. По мере нашего движения леса становились всё реже, и вскоре их полностью сменили луга и поля. Мы доехали до города Воронежа, расположенного на берегу Дона. Дальше дорога шла по открытому пространству, почти повсеместно распаханному. Лишь на небольших участках здесь можно было увидеть естественную травянистую растительность. Поля в основном были засеяны пшеницей, встречались поля подсолнечника и бахчи с арбузами. Так мы добрались до Волги.

Какие природные зоны из тех, по территории которых проходил маршрут туристов, отображены на фотографиях?

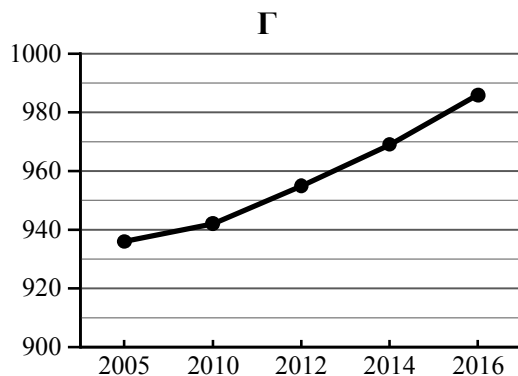
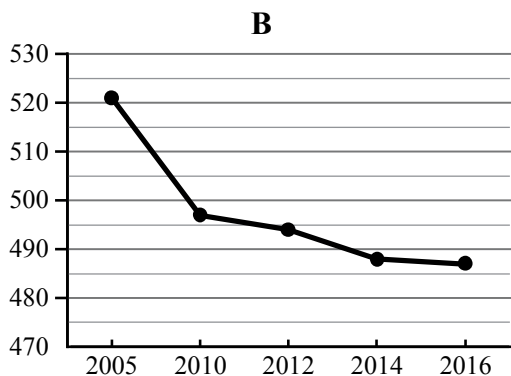
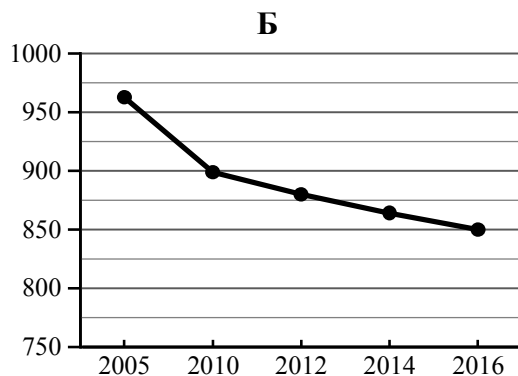
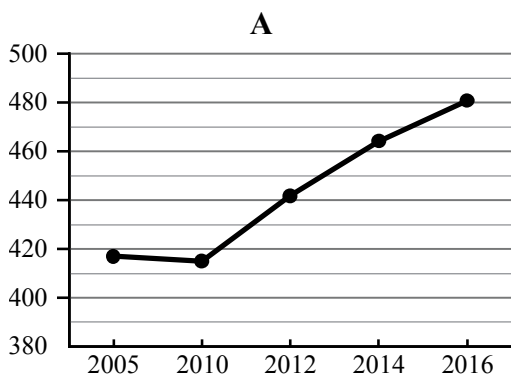
Ответ. _____



7 Используя приведённую ниже таблицу и графики динамики численности населения по субъектам Российской Федерации за период 2005–2016 гг., выполните задания.

Динамика численности населения, тыс. человек

№ п/п	Субъекты РФ	2005 г.	2010 г.	2012 г.	2014 г.	2016 г.
1	Республика Коми	963	899	880	864	850
2	Республика Ингушетия	417	415	442	464	481
3	Сахалинская область	521	497	494	488	487
4	Калининградская область	936	942	955	969	986



7.1. Определите, какому субъекту Российской Федерации соответствует каждый график динамики численности населения. Запишите в ответе **порядковые номера** субъектов Российской Федерации под соответствующими буквами.



Ответ.

А	Б	В	Г

7.2. В каких из приведённых в таблице субъектах Российской Федерации численность населения за указанный период выросла? Запишите в ответе **названия** субъектов РФ.

Ответ. _____

В каком из приведённых в таблице субъектов Российской Федерации убыль населения за указанный период была наибольшей? Запишите в ответе **название** субъекта РФ. (При необходимости Вы можете воспользоваться калькулятором.)



Ответ. _____

Система оценивания проверочной работы

Полный правильный ответ на каждое из заданий 1.2 и 5.1 оценивается 1 баллом. Если в ответе допущена хотя бы одна ошибка (один из элементов ответа записан неправильно или не записан), выставляется 0 баллов.

Полный правильный ответ на каждое из заданий 2.1, 3.3, 5.3, 7.1 оценивается 2 баллами. Если в ответах на задания 2.1, 3.3, 5.3 допущена одна ошибка или в ответе на задание 7.1 перепутаны местами две цифры, выставляется 1 балл; если допущено две или более ошибки – 0 баллов.

Номер задания	Правильный ответ	
	Монголия	Китай
1.2	<i>Если за выполнение задания 1.1 выставлено 0 баллов, результат выполнения данного задания не засчитывается</i>	
2.1	А – острова Новая Земля Б – Балтийское море В – Чукотский полуостров Г – остров Сахалин	
3.3	145 (в любой последовательности) <i>Если за выполнение задания 3.2 выставлено 0 баллов, результат выполнения данного задания не засчитывается</i>	
5.1	А – субарктический Б – умеренный / умеренно континентальный	
5.3	246 (в любой последовательности)	
7.1	2134	

1

На рисунках представлены контуры стран – соседей России с указанием столиц этих стран. Рассмотрите рисунки и выполните задания.

1.1. Выберите из списка названия этих стран и укажите их под рисунками.

Страны-соседи России:

Литва, Польша, Белоруссия, Грузия, Южная Осетия, Казахстан, Япония, Монголия.



1 – Монголия 2 – Белоруссия 3 – Япония 4 – Грузия

Определите расположение указанных Вами стран на схеме и впишите в пустые квадраты их **номера**.



Содержание верного ответа и указания по оцениванию	Баллы
Правильный ответ должен содержать следующие элементы: 1) <u>подписи названий стран</u> под рисунками: 1 – Монголия; 2 – Белоруссия; 3 – Япония; 4 – Грузия; 2) <u>вписанные номера стран</u> на схеме	
Правильно подписаны названия четырёх стран, правильно вписаны номера всех четырёх стран	3
Правильно подписаны названия трёх стран; правильно вписаны номера трёх-четырёх стран. ИЛИ Правильно подписаны названия трёх-четырёх стран; правильно вписаны номера двух стран / перепутаны местами номера двух стран	2
Правильно подписаны названия двух стран; правильно вписаны номера этих двух стран. ИЛИ Правильно подписаны названия трёх-четырёх стран; правильно вписан номер только одной страны / ни одного номера не вписано правильно	1
Правильно подписаны названия двух стран; правильно вписан номер только одной страны / номера стран не вписаны / вписаны неправильно. ИЛИ Правильно подписано название только одной страны независимо от наличия/отсутствия вписанных номеров стран. ИЛИ Названия стран не подписаны / подписаны неправильно независимо от наличия/отсутствия вписанных номеров стран. ИЛИ Ответ неправильный	0
<i>Максимальный балл</i>	3

ИЛИ

1 На рисунках представлены контуры стран-соседей России. Рассмотрите рисунки и выполните задания.

1.1. Выберите из списка названия столиц этих стран и укажите их под рисунками.

Столицы стран-соседей России:

Вильнюс, Вашингтон, Таллин, Токио, Минск, Пекин, Тбилиси, Баку.



1 – Тбилиси

2 – Вашингтон

3 – Пекин

4 – Таллин

Определите расположение представленных стран на схеме и впишите в пустые квадраты их **номера**.



Содержание верного ответа и указания по оцениванию	Баллы
<p>Правильный ответ должен содержать следующие элементы:</p> <p>1) <u>подписи названий столиц стран</u> под рисунками: 1 – Тбилиси; 2 – Вашингтон; 3 – Пекин; 4 – Таллин;</p> <p>2) <u>вписанные номера стран</u> на схеме</p>	
Правильно подписаны названия столиц четырёх стран, правильно вписаны номера всех четырёх стран	3
<p>Правильно подписаны названия столиц трёх стран; правильно вписаны номера трёх-четырёх стран.</p> <p>ИЛИ Правильно подписаны названия столиц трёх-четырёх стран; правильно вписаны номера двух стран / перепутаны местами номера двух стран</p>	2
<p>Правильно подписаны названия столиц двух стран; правильно вписаны номера этих двух стран.</p> <p>ИЛИ Правильно подписаны названия столиц трёх-четырёх стран; правильно вписан номер только одной страны / ни одного номера не вписано правильно</p>	1
<p>Правильно подписаны названия столиц двух стран; правильно вписан номер только одной страны/ номера стран не вписаны / вписаны неправильно.</p> <p>ИЛИ Правильно подписано название столицы только одной страны независимо от наличия/отсутствия вписанных номеров стран.</p> <p>ИЛИ Названия столиц не подписаны / подписаны неправильно независимо от наличия/отсутствия вписанных номеров стран.</p> <p>ИЛИ Ответ неправильный</p>	0
<i>Максимальный балл</i>	<i>3</i>

2

2.2. Точка N расположена на территории одного из указанных Вами географических объектов и имеет координаты 71° с.ш. 55° в.д. Поставьте на карте крайнюю южную точку России, которая расположена на одном меридиане с точкой N, и обозначьте её буквой K.

Определите и запишите в ответе координаты точки K.

Рассчитайте расстояние в километрах от точки N до точки K. Длина дуги меридиана в 1° составляет 111,3 км. (Для расчёта используйте калькулятор.)

Содержание верного ответа и указания по оцениванию	Баллы
Правильный ответ должен содержать следующие элементы: 1) <u>точку K</u> на карте (крайняя южная точка России на меридиане 55° в.д.); 2) <u>координаты</u> точки K: 51° с.ш. 55° в.д.; 3) <u>расстояние</u> от точки N до точки K: 2226 км	
Правильно поставлена точка K на карте, определены её координаты, рассчитано расстояние. <i>При определении координат допускается погрешность $\pm 1^\circ$. При расчёте расстояния допускается соответствующая погрешность в километрах</i>	2
Правильно поставлена точка K на карте, определены её координаты; расстояние не рассчитано / рассчитано неправильно	1
Правильно поставлена точка K на карте; координаты точки не определены / определены неправильно независимо от наличия/отсутствия расчёта расстояния. ИЛИ Точка K на карте не поставлена / поставлена неправильно независимо от наличия/отсутствия определения координат и расчёта расстояния	0
<i>Максимальный балл</i>	2

ИЛИ

2.2. Точка N расположена на территории одного из указанных Вами географических объектов и имеет координаты 55° с.ш. 20° в.д. Поставьте на карте крайнюю восточную **островную** точку России, которая расположена на одной параллели с точкой N, и обозначьте её буквой K.

Определите и укажите в ответе координаты крайней восточной точки России, которая расположена на одной параллели с точкой N.

Определите и запишите в ответе координаты точки K.

Рассчитайте расстояние в километрах от точки N до точки K с помощью таблицы длин дуг параллелей. Результат округлите до целого числа. (Для расчёта воспользуйтесь калькулятором.)

Широта	0°	5°	10°	15°	20°	25°	30°	35°	40°	45°
Длина дуги параллели в 1° , км	111,3	110,9	109,6	107,6	104,6	101,0	96,5	91,3	85,4	78,8
Широта	50°	55°	60°	65°	70°	75°	80°	85°	90°	
Длина дуги параллели в 1° , км	71,7	64,0	55,8	47,2	38,2	28,9	19,4	19,4	0	

Содержание верного ответа и указания по оцениванию	Баллы
Правильный ответ должен содержать следующие элементы: 1) <u>точку К</u> на карте (крайняя восточная <u>островная</u> точка России на параллели 55° с.ш.); 2) <u>координаты</u> точки К: 55° с.ш. 167° в.д.; 3) <u>расстояние</u> от точки N до точки К: 9408 км	
Правильно поставлена точка К на карте, определены её координаты, рассчитано расстояние. <i>При определении координат допускается погрешность $\pm 1^\circ$. При расчёте расстояния допускается соответствующая погрешность в километрах</i>	2
Правильно поставлена точка К на карте, определены её координаты; расстояние не рассчитано / рассчитано неправильно	1
Правильно поставлена точка К на карте; координаты точки не определены / определены неправильно независимо от наличия/отсутствия расчёта расстояния. ИЛИ Точка К на карте не поставлена / поставлена неправильно независимо от наличия/отсутствия определения координат и расчёта расстояния	0
<i>Максимальный балл</i>	2

3

3.1. На карте России цифрами в квадратах обозначены формы рельефа. Выберите из предложенного списка географические названия этих форм рельефа и впишите в пустые ячейки на схеме.

Географические названия форм рельефа:

Становое, Пutorана, Шивелуч, Алтай, Прикаспийская, Валдайская.

Содержание верного ответа и указания по оцениванию	Баллы									
Правильный ответ должен содержать <u>заполненную схему</u> с вписанными в неё географическими названиями форм рельефа.										
<table style="width: 100%; border-collapse: collapse;"> <tr> <td style="border: 1px solid black; padding: 5px; text-align: center;">низменность</td> <td style="border: 1px solid black; padding: 5px; text-align: center;">плато</td> <td style="border: 1px solid black; padding: 5px; text-align: center;">горы</td> </tr> <tr> <td style="text-align: center;"> </td> <td style="text-align: center;"> </td> <td style="text-align: center;"> </td> </tr> <tr> <td style="border: 1px solid black; padding: 5px; text-align: center;"><u>Прикаспийская</u></td> <td style="border: 1px solid black; padding: 5px; text-align: center;"><u>Пutorана</u></td> <td style="border: 1px solid black; padding: 5px; text-align: center;"><u>Алтай</u></td> </tr> </table>	низменность	плато	горы				<u>Прикаспийская</u>	<u>Пutorана</u>	<u>Алтай</u>	
низменность	плато	горы								
<u>Прикаспийская</u>	<u>Пutorана</u>	<u>Алтай</u>								
Схема заполнена правильно	2									
При заполнении схемы допущена одна ошибка	1									
При заполнении схемы допущено две или более ошибки. ИЛИ Ответ неправильный	0									
<i>Максимальный балл</i>	2									

3.2. Какая форма рельефа обозначена на карте цифрой **1** ? Запишите в ответе название этого географического объекта.

На какой из фотографий представлен указанный Вами географический объект?

Содержание верного ответа и указания по оцениванию	Баллы
Правильный ответ должен содержать следующие элементы: 1) запись <u>названия географического объекта</u> : горы Алтай / Алтайские горы; 2) указание <u>фотографии</u> : В	
Правильно записано название географического объекта, указана фотография	2
Правильно записано название географического объекта; фотография не указана / указана неправильно	1
Название географического объекта не записано / записано неправильно независимо от указания фотографии. ИЛИ Ответ неправильный	0
<i>Максимальный балл</i>	2

4

4.1. Распределите реки России, приведённые в списке, в соответствии с бассейнами океанов, к которым они относятся. Запишите названия рек в соответствующие ячейки таблицы.

Реки:

Амур, Печора, Нева, Дон, Вилюй, Анадырь.

Содержание верного ответа и указания по оцениванию	Баллы									
Правильный ответ должен содержать <u>заполненную таблицу</u> с вписанными в неё названиями рек.										
<table border="1" style="width: 100%; text-align: center;"> <thead> <tr> <th>Бассейн Северного Ледовитого океана</th> <th>Бассейн Атлантического океана</th> <th>Бассейн Тихого океана</th> </tr> </thead> <tbody> <tr> <td><i>Печора</i></td> <td><i>Нева</i></td> <td><i>Амур</i></td> </tr> <tr> <td><i>Вилюй</i></td> <td><i>Дон</i></td> <td><i>Анадырь</i></td> </tr> </tbody> </table>	Бассейн Северного Ледовитого океана	Бассейн Атлантического океана	Бассейн Тихого океана	<i>Печора</i>	<i>Нева</i>	<i>Амур</i>	<i>Вилюй</i>	<i>Дон</i>	<i>Анадырь</i>	
Бассейн Северного Ледовитого океана	Бассейн Атлантического океана	Бассейн Тихого океана								
<i>Печора</i>	<i>Нева</i>	<i>Амур</i>								
<i>Вилюй</i>	<i>Дон</i>	<i>Анадырь</i>								
Таблица заполнена правильно	2									
При заполнении таблицы допущена одна ошибка	1									
При заполнении таблицы допущено две или более ошибки. ИЛИ Ответ неправильный	0									
<i>Максимальный балл</i>	2									

4.2. Определите по тексту и запишите название одной из приведённых в списке рек.

Приведённые в списке реки обозначены на карте цифрами в кружках. Какой цифрой обозначена указанная Вами река?

Содержание верного ответа и указания по оцениванию	Баллы
Правильный ответ должен содержать следующие <u>элементы</u> : 1) запись <u>названия реки</u> : Виллой; 2) указание <u>цифры</u> , которой обозначена река на карте: 5	
Правильно записано название реки, правильно указана цифра	2
Правильно записано название реки; цифра не указана / указана неправильно	1
Название реки не записано / записано неправильно независимо от указания цифры. ИЛИ Ответ неправильный	0
<i>Максимальный балл</i>	2

4.3. Используя данные, приведённые в тексте, рассчитайте падение и уклон указанной Вами реки. Результаты округлите до десятых. (Для расчёта используйте калькулятор.)

Содержание верного ответа и указания по оцениванию	Баллы
Правильный ответ должен содержать следующие <u>элементы</u> : 1) <u>падение</u> реки: 466 м; 2) <u>уклон</u> реки: 17,6 см/км. <i>Если за выполнение задания 4.2 выставлено 0 баллов, результат выполнения данного задания не засчитывается</i>	
Правильно рассчитаны падение и уклон реки	2
Правильно рассчитано только падение реки, уклон реки не рассчитан / рассчитан неправильно	1
Падение реки не рассчитано / рассчитано неправильно независимо от указания уклона реки. ИЛИ Ответ неправильный	0
<i>Максимальный балл</i>	2

5

5.2. Школьник из Норильска написал письмо с описанием особенностей местного климата своему другу, который живёт в Казани.

Какая климатограмма построена по данным метеонаблюдений в городе Норильске? Укажите в ответе букву, которой она обозначена.

По выбранной Вами климатограмме определите климатические показатели, характерные для климата Норильска, и заполните таблицу.

Содержание верного ответа и указания по оцениванию					Баллы
Правильный ответ должен содержать следующие <u>элементы</u> : 1) <u>указание климатограммы</u> : А; 2) <u>заполненную таблицу</u> с климатическими показателями:					
Средняя температура воздуха, °С		Годовая амплитуда температур, °С	Годовое количество осадков, мм	Месяц, на который приходится наибольшее количество осадков	
в январе	в июле				
-37	+13	50	417	сентябрь	
<i>При определении средних температур допускается погрешность $\pm 1^{\circ}\text{C}$</i>					
Правильно указана климатограмма, правильно заполнена таблица					2
Правильно указана климатограмма; в таблице допущена одна ошибка					1
Правильно указана климатограмма; в таблице допущено две или более ошибки / таблица не заполнена. ИЛИ Климатограмма, не указана / указана неправильно независимо от заполнения таблицы. ИЛИ Ответ неправильный					0
<i>Максимальный балл</i>					2

6

Группа туристов отправилась в путешествие по России. На карте отмечены буквами опорные точки их маршрута, которые являются крупными городами: центрами субъектов Российской Федерации (республик, краёв, областей) и/или городами федерального значения. Проследите по карте маршрут туристов и выполните задания.

6.1. Выберите из приведённого списка названия городов – опорных точек маршрута, и заполните таблицу.

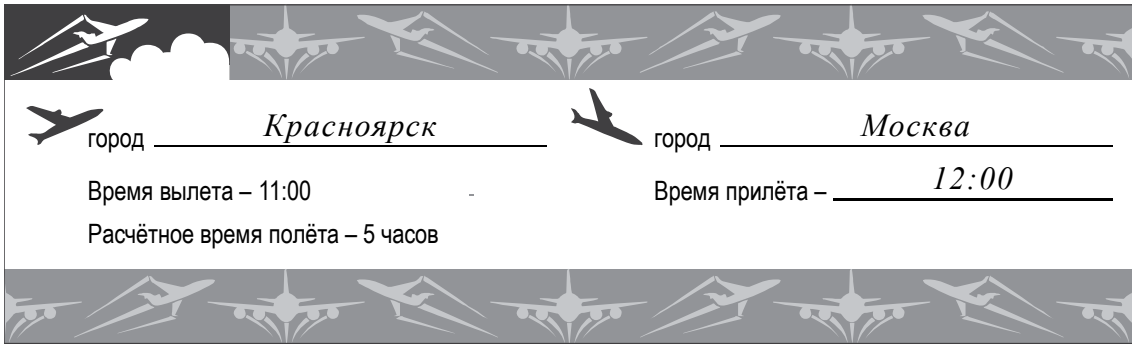
Города:

Тюмень, Волгоград, Красноярск, Ростов-на Дону, Москва, Мурманск.

Подпишите на карте названия указанных Вами городов – опорных точек маршрута.

Содержание верного ответа и указания по оцениванию				Баллы
Правильный ответ должен содержать следующие <u>элементы</u> :				
1) указание в таблице <u>названий городов</u> – опорных точек маршрута:				
Опорная точка маршрута	А	Б	В	
Название города	<i>Красноярск</i>	<i>Москва</i>	<i>Волгоград</i>	
2) <u>подписи городов на карте</u>				
Правильно указаны названия трёх городов, на карте подписаны три города				2
Правильно указаны названия трёх городов; на карте правильно подписаны один-два города. ИЛИ Правильно указаны названия двух городов; на карте правильно подписаны эти два города				1
Правильно указаны названия двух городов; правильно подписан только один город. ИЛИ Правильно указаны названия двух-трёх городов; города на карте не подписаны / подписаны неправильно. ИЛИ Правильно указан только один город / города не указаны / указаны неправильно независимо от подписи городов на карте. ИЛИ Ответ неправильный				0
<i>Максимальный балл</i>				2

6.2. Из точки А в точку Б туристы решили добраться на самолёте. Заполните пропуски в авиабилете: впишите названия пункта вылета, пункта назначения и время прилёта в пункт назначения (местное время).

Содержание верного ответа и указания по оцениванию	Баллы
<p>Правильный ответ должен содержать изображение авиабилета с <u>заполненными пропусками</u></p> 	
Правильно заполнены все пропуски	1
Правильно заполнены только один-два пропуска. ИЛИ Ни один из пропусков не заполнен / не заполнен правильно	0
<i>Максимальный балл</i>	<i>1</i>

6.3. Путь от точки Б до точки В туристы преодолевали на поезде и автомобиле. По пути они делали фотографии и записи в дневнике. Рассмотрите фотографии, прочитайте записи туристов и ответьте на вопрос.

Какие природные зоны из тех, по территории которых проходил маршрут туристов, отображены на фотографиях?

Содержание верного ответа и указания по оцениванию	Баллы
Правильный ответ должен содержать <u>ответ на вопрос</u> : природные зоны – смешанный лес, степь	
Правильно указаны две природные зоны	1
Правильно указана только одна природная зона. ИЛИ Ни одной природной зоны не указано / не указано правильно	0
<i>Максимальный балл</i>	<i>1</i>

7.2. В каких из приведённых в таблице субъектах Российской Федерации численность населения за указанный период выросла? Запишите в ответе **названия** субъектов РФ.

В каком из приведённых в таблице субъектов Российской Федерации убыль населения за указанный период была наибольшей? Запишите в ответе **название** субъекта РФ. (При необходимости Вы можете воспользоваться калькулятором.)

Содержание верного ответа и указания по оцениванию	Баллы
Правильный ответ должен содержать <u>ответы на два вопроса</u> : 1) Республика Ингушетия и Калининградская область (в любой последовательности) 2) Республика Коми	
Правильно даны ответы на два вопроса	2
Правильно дан ответ только на один любой вопрос	1
Ответы на вопросы не даны / даны неправильно	0
<i>Максимальный балл</i>	2

Система оценивания выполнения всей работы

Максимальный первичный балл за выполнение работы – 33.

Рекомендации по переводу первичных баллов в отметки по пятибалльной шкале

Отметка по пятибалльной шкале	«2»	«3»	«4»	«5»
Первичные баллы	0–9	10–20	21–28	29–33